


## Boletín Los Números Reales – Matemáticas

1. Clasifica en la Recta Real los siguientes números:

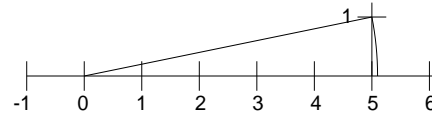
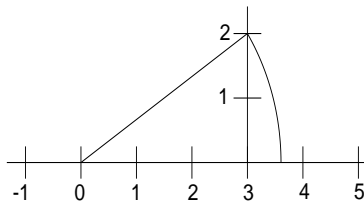
$$0,0\hat{5}; -3; 0,6; \sqrt{12}; -\frac{1}{5}; \sqrt{49}; \sqrt{3}; -0,4736584\dots; -\frac{15}{5}; \pi; 0,\hat{7}$$



2. Representa en la Recta Real los siguientes números:

$$\frac{8}{6}; \sqrt{5}; -\frac{7}{4}; -3; \sqrt{10}; \frac{4}{8}; \sqrt{9}; 12; 0,7; \frac{8}{3}$$

3. Indica que números están representados en los siguientes dibujos:



4. Pasa de decimal a Fracción

a) 2,7

f) 0,08

b)  $0,\bar{3}$

g) 30,2

c) 5,46

h)  $12,\bar{7}$

d)  $2,\bar{34}$

i) 9,5

e)  $7,\bar{7}$

j)  $0,\bar{21}$

5. Resuelve

a)  $5,\bar{7} + 9,\bar{4} =$

b)  $2,0\bar{4} + 1,\bar{6} =$

c)  $5,6 + 4,\bar{76} - 0,\bar{70} =$

d)  $34,8\bar{6} + 29,\bar{48} =$

e)  $2,\bar{4} + 3,2 - 7,0\bar{3} + 0,\bar{45} =$