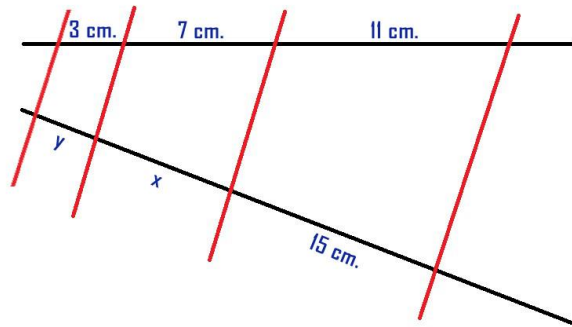
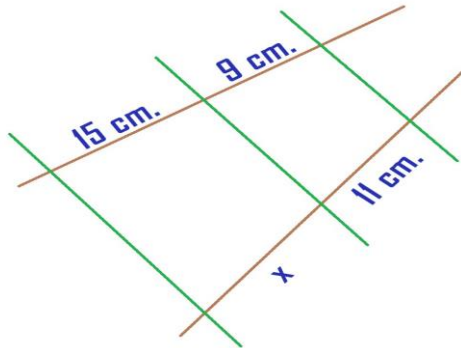
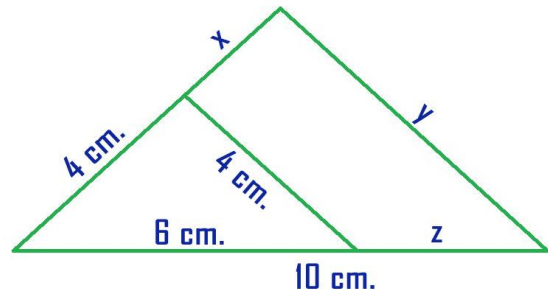
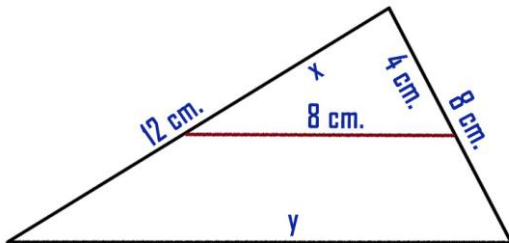


# Boletín Semejanza I – Matemáticas 3º E.S.O.

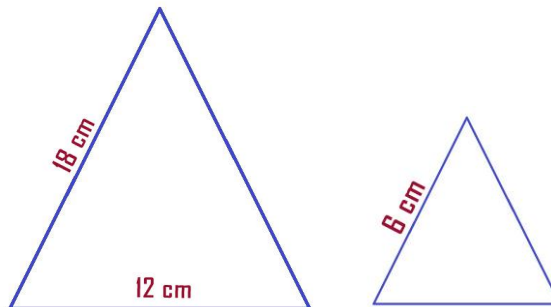
1. Calcula la  $x$  e  $y$ , cuando corresponda en las en la figuras



2. Calcula las incógnitas en los siguientes triángulos.



3. Calcula los lados que faltan en el triángulo pequeño.



4. Calcula la  $x$  e  $y$ , cuando corresponda en las en la figuras

