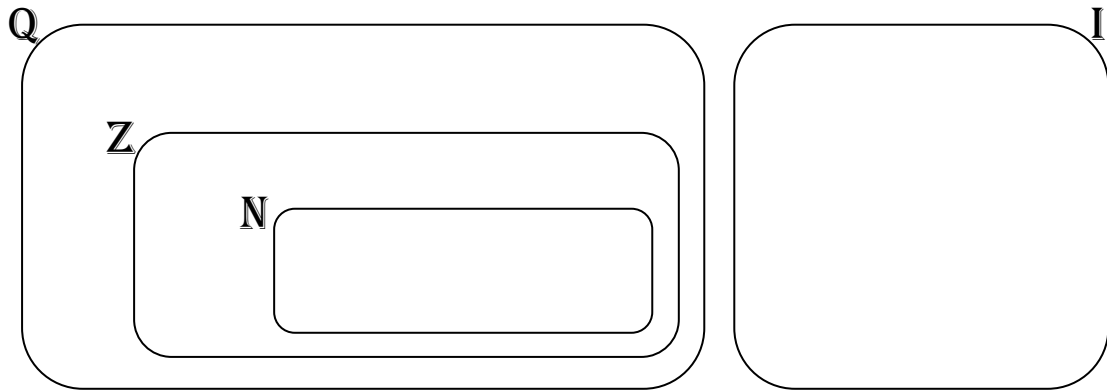


Boletín Los Números Reales – Matemáticas

1. Clasifica en la Recta Real los siguientes números:

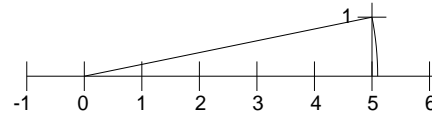
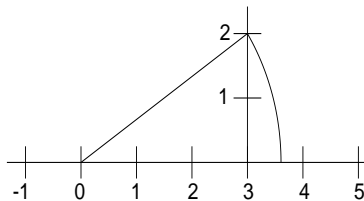
$$0,0\overline{5}; -3; 0,6; \sqrt{12}; -\frac{1}{5}; \sqrt{49}; \sqrt{3}; -0,4736584\dots; -\frac{15}{5}; \pi; 0,\overline{7}$$



2. Representa en la Recta Real los siguientes números:

$$\frac{8}{6}; \sqrt{5}; -\frac{7}{4}; -3; \sqrt{10}; \frac{4}{8}; \sqrt{9}; 12; 0,7; \frac{8}{3}$$

3. Indica que números están representados en los siguientes dibujos:



4. Pasa de decimal a Fracción

a) 2,7

f) 0,08

b) $0,\overline{3}$

g) 30,2

c) 5,46

h) $12,\overline{7}$

d) $2,\overline{34}$

i) 9,5

e) $7,\overline{7}$

j) $0,\overline{21}$

5. Resuelve

a) $5,\overline{7} + 9,\overline{4} =$

b) $2,0\overline{4} + 1,\overline{6} =$

c) $5,6 + 4,\overline{76} - 0,\overline{70} =$

d) $34,8\overline{6} + 29,\overline{48} =$

e) $2,\overline{4} + 3,2 - 7,0\overline{3} + 0,\overline{45} =$