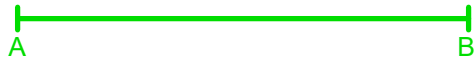


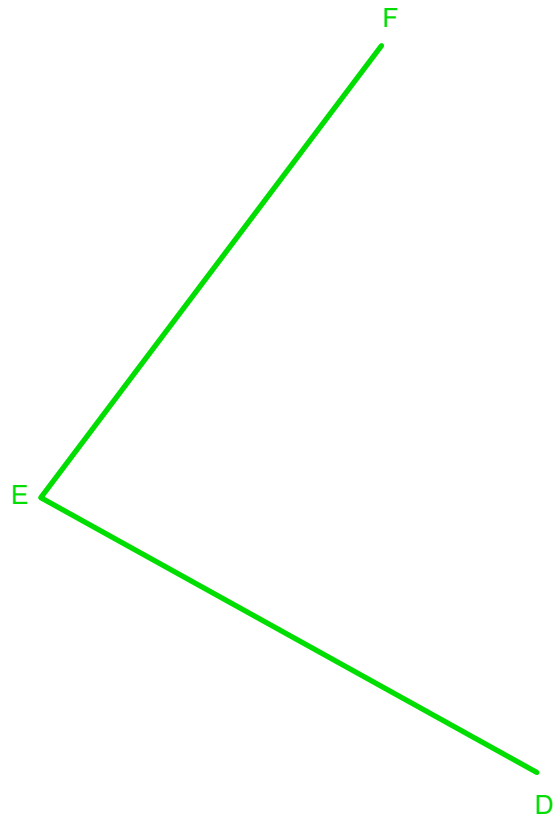
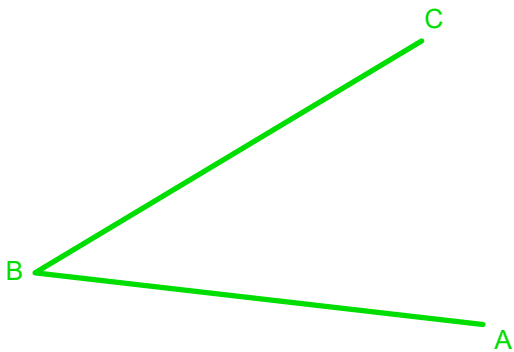
Ejercicio 03.- La mediatriz de un segmento es la recta perpendicular a éste que lo divide en dos partes iguales. Los pasos a seguir para su trazado son: 1. Abre el compás algo más de la mitad del segmento dado AB y, con centro en el extremo A traza una arco.



Ejercicio 04.- Trazar la perpendicular a un segmento utilizando compás pasando por un punto P perteneciente al segmento..



Ejercicio 05.- La bisectriz de un ángulo es la recta, que pasando por el vértice del ángulo, lo divide en dos ángulos iguales. Trazar una bisectriz a los ángulos ABC y DEF con el compás utilizando la apertura necesaria en cada caso.



Nombre y Apellidos

Fecha

Curso

Calificación

Lámina 02 Mediatriz, perpendicular a un punto y bisectriz

Láminas en
juansanmartin.net/plastica_visual.html