




Ejercicio 23.- Dibuja el siguiente Rosetón a partir de la circunferencia dada. Haz las operaciones necesarias para dividir la circunferencia.



Nombre y Apellidos

Fecha

Curso

Calificación

Lámina 10 Construcción de un Rosetón

Láminas en  
[juansanmartin.net/plastica\\_visual.html](http://juansanmartin.net/plastica_visual.html)