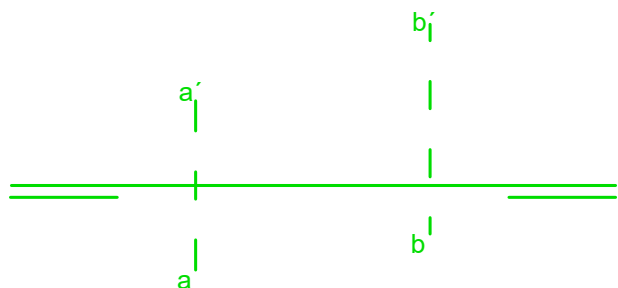
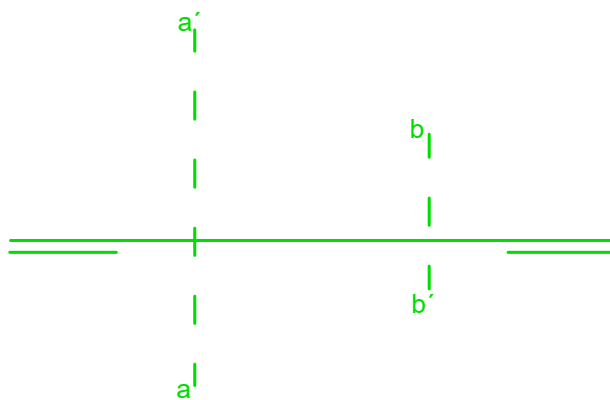


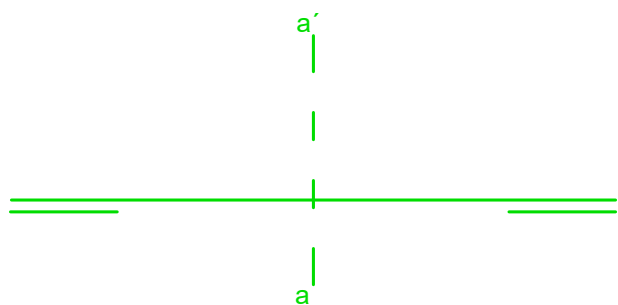
Ejercicio 1.- Dados los puntos A y B, dibuja la recta que pasa por ambos y determina sus trazas.



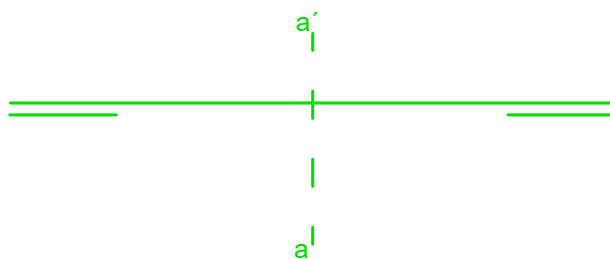
Ejercicio 2.- Dados los puntos A y B, dibuja la recta que pasa por ambos y determina sus trazas.



Ejercicio 3.- Dibuja una recta r horizontal que pase por a



Ejercicio 4.- Dibuja una recta s vertical que pase por a



Nombre y Apellidos

Fecha

Curso

Calificación