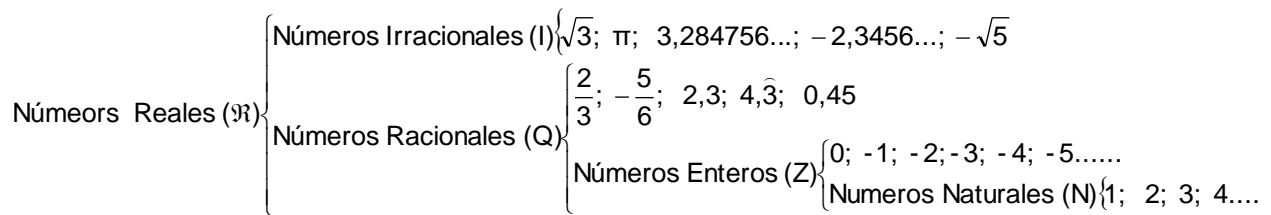


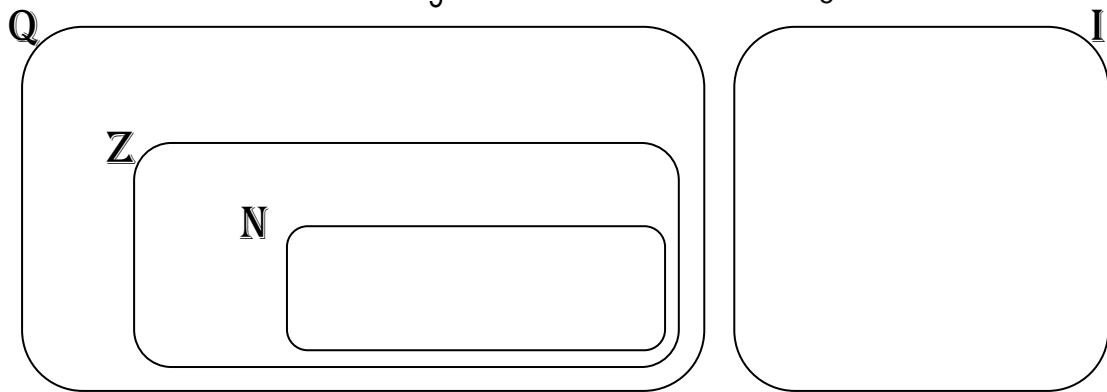


Boletín Los Números Reales I – Matemáticas 3º ESO




1. Clasifica en la Recta Real los siguientes números:

$$0,0\bar{5}; -3; 2,3; \sqrt{12}; -\frac{1}{5}; \sqrt{49}; \sqrt{3}; -0,4736584\dots; -\frac{15}{5}; \pi; 0,\bar{7}$$



2. Clasifica en la Recta Real los siguientes números:

$$0,6; 18; 0,\bar{5}; \sqrt{3}; -\frac{6}{3}; \sqrt{16}; 0,25; 0,279044\dots; \frac{5}{8}; e; 2,\bar{7}$$



3. Clasifica en la Recta Real los siguientes números:

$$4,7; -7; \sqrt{58}; \frac{7}{4}; \sqrt{36}; \sqrt{5}; 0,857763\dots; -\frac{12}{5}; 0; 0,\bar{3}$$

