


## Boletín Los Números Reales I – Matemáticas 4º E.S.O.

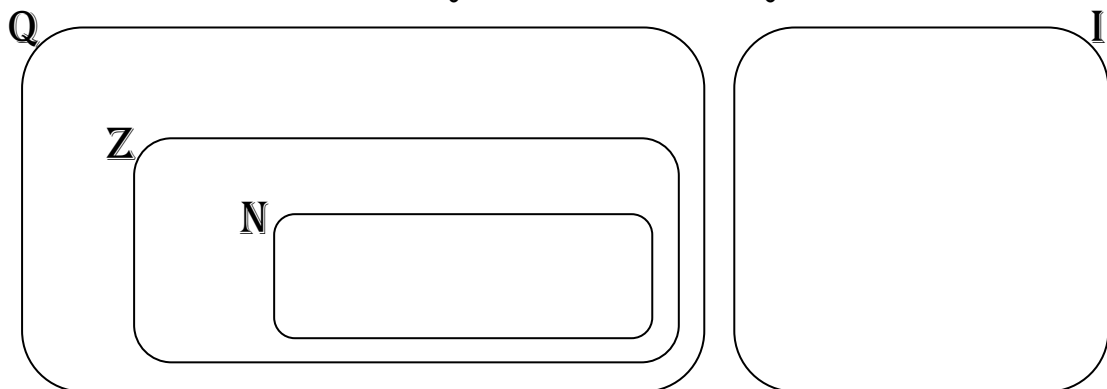
1. Clasifica en la Recta Real los siguientes números:

$$0,0\bar{5}; -3; 2,3; \sqrt{12}; -\frac{1}{5}; \sqrt{49}; \sqrt{3}; -0,4736584\dots; -\frac{15}{5}; \pi; 0,\bar{7}$$



2. Clasifica en la Recta Real los siguientes números:

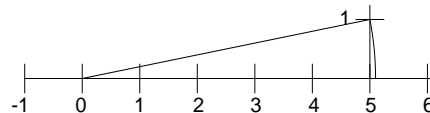
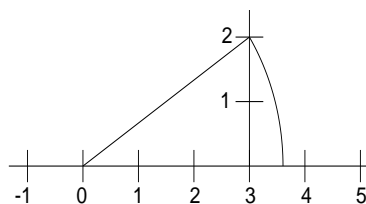
$$0,6; 18; 0,\bar{5}; \sqrt{3}; -\frac{6}{3}; \sqrt{16}; 0,25; 0,279044\dots; \frac{5}{8}; e; 2,\bar{7}$$



3. Representa en la Recta Real los siguientes números:

$$4. \frac{8}{6}; \sqrt{5}; -\frac{7}{4}; -3; \sqrt{10}; \frac{4}{8}; \sqrt{9}; 12; 0,7; \frac{8}{3}$$

5. Indica que números están representados en los siguientes dibujos:



6. Indica que números están representados en los siguientes dibujos:

